

원의 방정식을 이차 방정식꼴로:

$$(x-a)^2 + (y-b)^2 = r^2$$

$$\text{전개 : } x^2 + y^2 - \underbrace{2ax}_{Ax} - \underbrace{2by}_{By} + \underbrace{a^2 + b^2 - r^2}_{C} = 0$$

이차방정식꼴 : $x^2 + y^2 + Ax + By + C = 0$

원의 방정식으로 변형 : $\left(x + \frac{A}{2}\right)^2 + \left(y + \frac{B}{2}\right)^2 = \frac{A^2 + B^2 - 4C}{4}$

$$A^2 + B^2 - 4AC > 0 \text{ 이면}$$

$$\text{중심 : } \left(-\frac{A}{2}, -\frac{B}{2}\right)$$

$$\text{반지름의 길이 : } \frac{\sqrt{A^2 + B^2 - 4C}}{2}$$

예제 2 — 다음 세 점을 지나는 원의 방정식을 구하여라.

$$P(1, 5), Q(-2, -4), R(5, 3)$$

원의 이차방정식을 이용하여 연립 방정식을 푼다^^



[풀이] ① 구하는 원의 방정식을

$$x^2 + y^2 + Ax + By + C = 0$$

으로 놓자.

세 점 P, Q, R 가 이 원 위에 있으므로

$$\begin{cases} 26 + A + 5B + C = 0 \\ 20 - 2A - 4B + C = 0 \\ 34 + 5A + 3B + C = 0 \end{cases}$$

이것을 풀면

$$A = -2, B = 0, C = -24$$

따라서 구하는 원의 방정식은

$$x^2 + y^2 - 2x - 24 = 0$$

참고 \overline{PQ} 의 수직이등분선과 \overline{PR} 의 수직이등분선의 교점 C 가 원의 중심이다.

\overline{PQ} 의 수직이등분선 l 은 기울기가 $-\frac{1}{3}$ 이고 점 $(-\frac{1}{2}, \frac{1}{2})$ 을 지나므로, l 의 방정식은

$$x + 3y = 1 \quad \dots \textcircled{1}$$

\overline{PR} 의 수직이등분선 m 은 기울기가 2이고 점 (3,4)를 지나므로, m 의 방정식은


$$2x - y = 2 \quad \dots \textcircled{2}$$

①, ②를 연립하여 풀면

$$x = 1, y = 0 \quad \therefore C(1, 0)$$

한편, 반지름의 길이는 $\overline{PC} = 5$ 이므로 구하는 원의 방정식은

$$\begin{aligned} (x-1)^2 + y^2 &= 25 \\ \therefore x^2 + y^2 - 2x - 24 &= 0 \quad \dots \bullet \end{aligned}$$



예제 3 원 $x^2 + y^2 = 1$ 과 직선 $y = kx - 2$ 가 서로 다른 두 점에서 만나도록 k 의 값의 범위를 구하여라.

x에 관한 2차 방정식으로 만들고 $D > 0$ 을 이용한다^^

이차방정식의 근의 판별

계수가 실수인 이차방정식 $ax^2 + 2b'x + c = 0 (a \neq 0)$ 에서 판별식을 $D = b'^2 - 4ac$ 라고 하면

- ① $D > 0 \Leftrightarrow$ 서로 다른 두 실근을 갖는다.
 - ② $D = 0 \Leftrightarrow$ 중근을 갖는다.
 - ③ $D < 0 \Leftrightarrow$ 서로 다른 두 허근을 갖는다.
-

예제 3 원 $x^2 + y^2 = 1$ 과 직선 $y = kx - 2$ 가 서로 다른 두 점에서 만나도록 k 의 값의 범위를 구하여라.

[풀이] $y = kx - 2$ 를 $x^2 + y^2 = 1$ 에 대입하면

$$x^2 + (kx - 2)^2 = 1$$

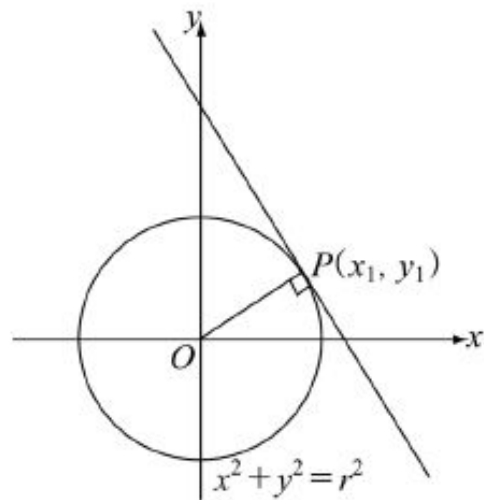
$$(1 + k^2)x^2 - 4kx + 3 = 0$$

이고 $\frac{D}{4} = 4k^2 - 3(1 + k^2) > 0$ 이므로 $k^2 - 3 > 0$

$$\therefore k < -\sqrt{3} \text{ 또는 } k > \sqrt{3}$$

... ○





기울기가 m 인 원의 접선

원 $x^2 + y^2 = r^2$ 에 접하고 기울기가 m 인 직선의 방정식은

$$y = mx \pm r\sqrt{m^2 + 1}$$

점점이 주어진 원의 접선

원 $x^2 + y^2 = r^2$ 위의 점 (x_1, y_1) 에서의 접선의 방정식은

$$x_1x + y_1y = r^2$$

기울기가 m 인 원의 접선

원 $x^2 + y^2 = r^2$ 에 접하고 기울기가 m 인 직선의 방정식은

$$y = mx \pm r\sqrt{m^2 + 1}$$

원 $x^2 + y^2 = r^2$ 에 접하고 기울기가 m 인 직선의 방정식을 구하여 보자.

구하는 접선의 방정식을

$$y = mx + n$$

이라 하고 이것을 원 $x^2 + y^2 = r^2$ 에 대입하면

$$x^2 + (mx + n)^2 = r^2 \quad \text{즉} \quad (m^2 + 1)x^2 + 2mnx + n^2 - r^2 = 0$$

직선 $y = mx + n$ 이 원 $x^2 + y^2 = r^2$ 에 접하므로 (중근, $D/4 = 0$)

$$\frac{D}{4} = m^2n^2 - (m^2 + 1)(n^2 - r^2) = r^2(m^2 + 1) - n^2 = 0$$

그러므로 $n^2 = r^2(m^2 + 1)$ 에서

$$n = \pm r\sqrt{m^2 + 1}$$

따라서, 구하는 접선의 방정식은

$$y = mx \pm r\sqrt{m^2 + 1}$$

점점이 주어진 원의 접선

원 $x^2 + y^2 = r^2$ 위의 점 (x_1, y_1) 에서의 접선의 방정식은

$$x_1x + y_1y = r^2$$

$x_1y_1 \neq 0$ 이면 직선 OP 의 기울기는 $\frac{y_1}{x_1}$ 이고, 점 P 를 지나는 접선은

직선 OP 에 수직이므로 접선의 기울기는 $-\frac{x_1}{y_1}$ 이다. 그러므로 접선의 방정식은

$$y - y_1 = -\frac{x_1}{y_1}(x - x_1)$$

이것을 정리하면

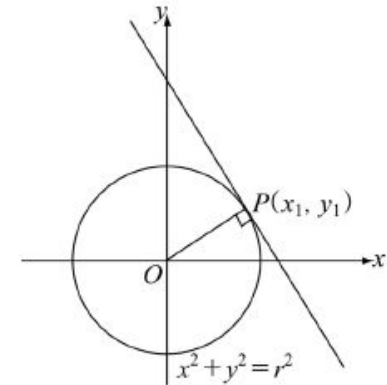
$$x_1x + y_1y = x_1^2 + y_1^2$$

그런데 $P(x_1, y_1)$ 은 원 위의 점이므로

$$x_1^2 + y_1^2 = r^2$$

따라서 구하는 접선의 방정식은 $x_1x + y_1y = r^2$ 이다.

$$m_1m_2 = -1$$




예제 4 점 $(1, 3)$ 에서 원 $x^2 + y^2 = 5$ 에 그은 접선의 방정식을 구하여라.

원의 접선방정식
연립방정식

점점이 주어진 원의 접선

원 $x^2 + y^2 = r^2$ 위의 점 (x_1, y_1) 에서의 접선의 방정식은

$$x_1x + y_1y = r^2$$



[풀이] 접점을 (x_1, y_1) 이라 하면 구하는 접선의 방정식은

$$x_1x + y_1y = 5 \quad \dots \textcircled{1}$$

점 $(1, 3)$ 은 직선 $\textcircled{1}$ 위의 점이므로

$$x_1 + 3y_1 = 5 \quad \dots \textcircled{2}$$

또, 점 (x_1, y_1) 은 원 $x^2 + y^2 = 5$ 위의 점이므로

$$x_1^2 + y_1^2 = 5 \quad \dots \textcircled{3}$$

$\textcircled{2}$ 와 $\textcircled{3}$ 을 연립하여 풀면


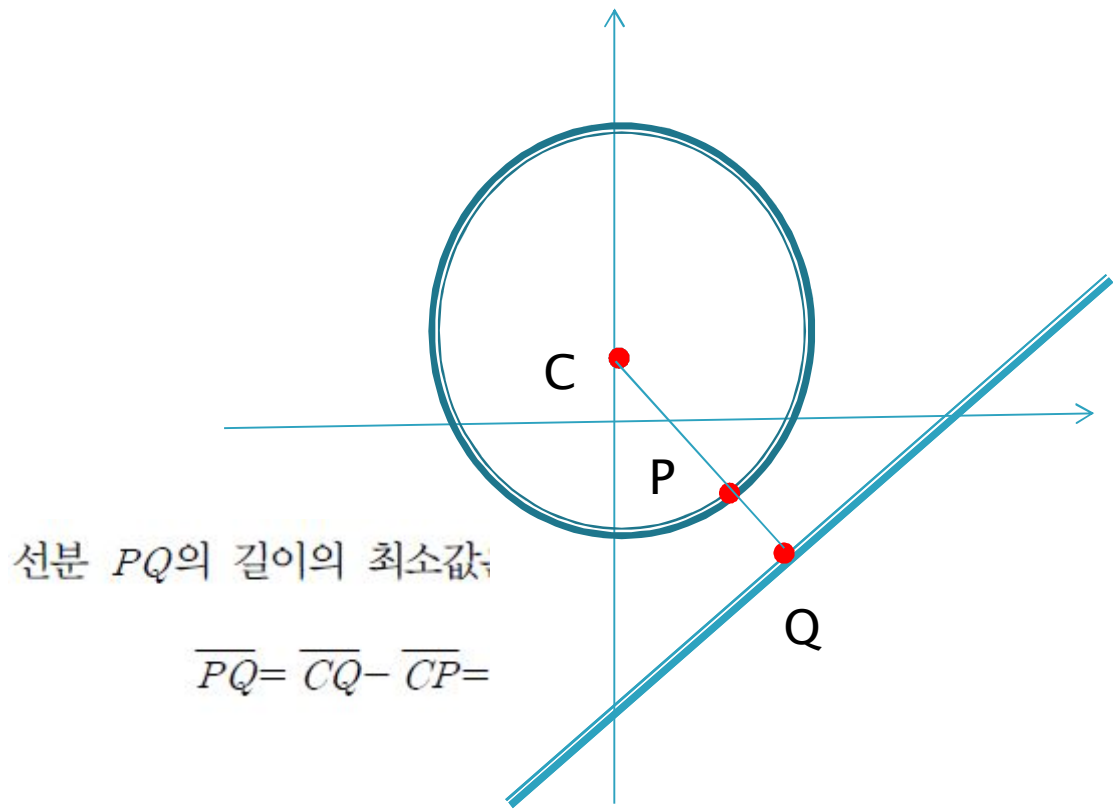
$$\begin{cases} x_1 = 2 \\ y_1 = 1 \end{cases} \quad \text{또는} \quad \begin{cases} x_1 = -1 \\ y_1 = 2 \end{cases}$$

$x_1 = 2, y_1 = 1$ 을 $\textcircled{1}$ 에 대입하면 $2x + y = 5$

$x_1 = -1, y_1 = 2$ 를 $\textcircled{1}$ 에 대입하면 $-x + 2y = 5$

따라서 구하는 방정식은 $2x + y = 5$ 또는 $-x + 2y = 5$... ◉

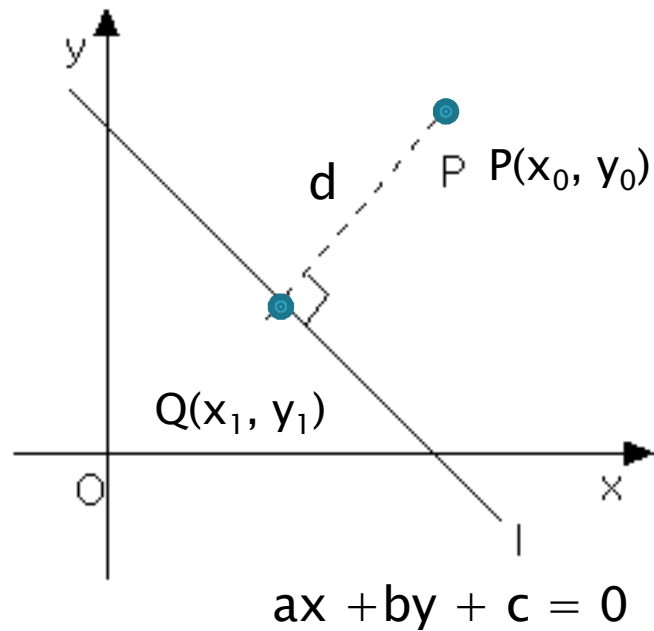
예제 5 좌표평면에서 원 $x^2 + y^2 - 8y - 9 = 0$ 위를 움직이는 점 P 와 직선 $3x - 4y - 24 = 0$ 위를 움직이는 점 Q 가 있다. 선분 PQ 의 길이의 최소값을 구하여라.



점과 직선 사이의 거리

점 (x_0, y_0) 와 직선 $ax + by + c = 0$ 사이의 거리 d 는

$$d = \frac{|ax_0 + by_0 + c|}{\sqrt{a^2 + b^2}}$$



[풀이] $x^2 + y^2 - 8y - 9 = 0$ 에서

$$x^2 + (y - 4)^2 = 5^2$$

이므로 원의 중심을 C 라 하면 $C(0, 4)$ 이고, 반지름의 길이가 5이다.


직선 PQ 가 주어진 직선에 수직이고, 점 C 를 지날 때, 선분 PQ 의 길이는 최소가 된다. 그런데

$$\overline{CQ} = \frac{|3 \cdot 0 - 4 \cdot 4 - 24|}{\sqrt{3^2 + (-4)^2}} = 8$$

이므로 선분 PQ 의 길이의 최소값은

$$\overline{PQ} = \overline{CQ} - \overline{CP} = 8 - 5 = 3$$

... ◉



예제 6 — 두 원 $x^2 + y^2 + 4x - 6y - 96 = 0$, $x^2 + y^2 - 18x - 8y + 48 = 0$ 의
교점과 원점을 지나는 원의 방정식을 구하여라.

두 점에서 만나는 두 원 $x^2 + y^2 + ax + by + c = 0$, $x^2 + y^2 + a'x + b'y + c' = 0$ 에 대하여

두 원의 교점 A, B를 지나는 원의 방정식은

$$x^2 + y^2 + ax + by + c + k(x^2 + y^2 + a'x + b'y + c') = 0 \quad (\text{단, } k \neq -1)$$

이 원이 원점(0,0)을 지나면 $x = 0$, $y = 0$ 을 대입하여
k를 구할 수 있다.

예제 6 — 두 원 $x^2 + y^2 + 4x - 6y - 96 = 0$, $x^2 + y^2 - 18x - 8y + 48 = 0$ 의
교점과 원점을 지나는 원의 방정식을 구하여라.

[풀이] 두 원의 교점을 지나는 원의 방정식은

$$(x^2 + y^2 + 4x - 6y - 96) + m(x^2 + y^2 - 18x - 8y + 48) = 0$$

으로 놓을 수 있고, 이 원이 점 $(0, 0)$ 을 지나므로

$$-96 + 48m = 0 \quad \therefore m = 2$$

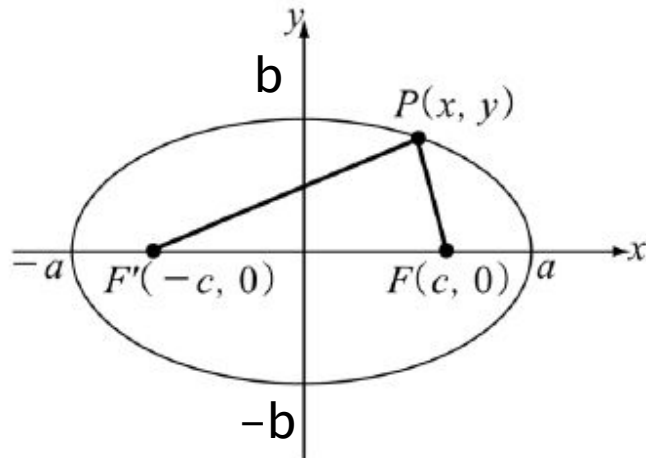
대입하고 정리하면

$$3x^2 + 3y^2 - 32x - 22y = 0$$

... ●



예제 7 — 두 정점 $F(2, 0)$, $F'(-2, 0)$ 에서의 거리의 합이 8이 되는 점들의 자취의 방정식을 구하여라.



$$a > c, a^2 - c^2 > 0, b^2 = a^2 - c^2$$

$$\frac{x^2}{a^2} + \frac{y^2}{b^2} = 1$$

[풀이] $a = 4$ 이고 $c = 2$ 이므로 $b = 2\sqrt{3}$ 이다. 따라서 구하는 점들의
자취는 타원으로서 그 방정식은 $\frac{x^2}{16} + \frac{y^2}{12} = 1$ 이다. ... ◉

